

COSTRUZIONE DI APPARECCHIATURE CHIMICHE
ESAME DEL 29/01/2015

Esercizio 1

E' dato il recipiente costruito con due strati forzati in acciaio ed internamente pressurizzato mostrato in sezione nella Fig. 1.1.

Si conduca:

1. la verifica di resistenza per il valore di interferenza minimo ammesso
2. la verifica di resistenza per il valore di interferenza massimo ammesso

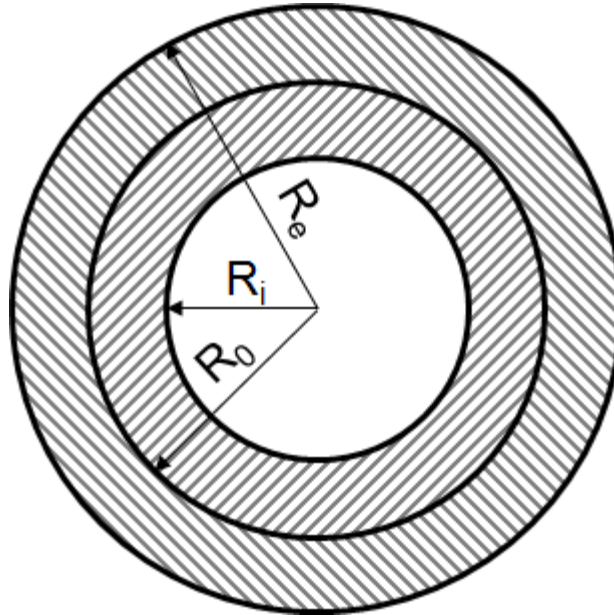


Fig. 1.1

E := 210000MPa	ν := 0.3	σ _{amm} := 400MPa	p ₀ := 150MPa
R _c := 42mm	R _i := 30mm	R _e := 60mm	s _{p1} := 10mm
i _{min} := 0.02mm	i _{max} := 0.04mm		

Si ricordano, se ritenute utili, le espressioni generali delle tensioni per il cilindro di raggio interno R_i, raggio esterno R_e soggetto ad una pressione interna p_i ed esterna p_e, e della relazione tra interferenza e pressione di contatto

$$\sigma_{rr} := \frac{p_i \cdot R_i^2 - p_e \cdot R_e^2}{R_e^2 - R_i^2} - \frac{R_i^2 \cdot R_e^2}{r^2} \cdot \frac{(p_i - p_e)}{R_e^2 - R_i^2}$$

$$\sigma_{\theta\theta} := \frac{p_i \cdot R_i^2 - p_e \cdot R_e^2}{R_e^2 - R_i^2} + \frac{R_i^2 \cdot R_e^2}{r^2} \cdot \frac{(p_i - p_e)}{R_e^2 - R_i^2}$$

$$p_c := \frac{E \cdot (R_e^2 - R_c^2) \cdot (R_c^2 - R_i^2)}{2 \cdot R_c^3 \cdot (R_e^2 - R_i^2)} \cdot i$$

Quesito 1

La pressione di contatto che si produce con l'interferenza minima è data da:

$$p_{cmin} := \frac{E \cdot (R_e^2 - R_c^2) \cdot (R_c^2 - R_i^2)}{2 \cdot R_c^3 \cdot (R_e^2 - R_i^2)} \cdot i_{min} = 16.653 \cdot \text{MPa}$$

L'andamento di tensione prodotto dal forzamento è dato da:

Tensioni dovute al forzamento

$$\sigma_{rrf_min}(r) := \begin{cases} \left[\frac{p_{cmin} \cdot R_c^2}{R_c^2 - R_i^2} \cdot \left(1 - \frac{R_i^2}{r^2} \right) \right] & \text{if } r < R_c \\ \left[\frac{p_{cmin} \cdot R_c^2}{R_e^2 - R_c^2} \cdot \left(1 - \frac{R_e^2}{r^2} \right) \right] & \text{otherwise} \end{cases}$$

$$\sigma_{\theta\theta f_min}(r) := \begin{cases} \left[\frac{p_{cmin} \cdot R_c^2}{R_c^2 - R_i^2} \cdot \left(1 + \frac{R_i^2}{r^2} \right) \right] & \text{if } r < R_c \\ \left[\frac{p_{cmin} \cdot R_c^2}{R_e^2 - R_c^2} \cdot \left(1 + \frac{R_e^2}{r^2} \right) \right] & \text{otherwise} \end{cases}$$

$$\sigma_{idT_f_min}(r) := \max\left(\left| \sigma_{\theta\theta f_min}(r) - \sigma_{rrf_min}(r) \right|, \left| \sigma_{\theta\theta f_min}(r) \right|, \left| \sigma_{rrf_min}(r) \right|\right)$$

Tensioni dovute alla pressione interna

$$\sigma_{rrpi}(r) := \frac{p_0 \cdot R_i^2}{R_e^2 - R_i^2} \cdot \left(1 - \frac{R_e^2}{r^2} \right)$$

$$\sigma_{\theta\theta pi}(r) := \frac{p_0 \cdot R_i^2}{R_e^2 - R_i^2} \cdot \left(1 + \frac{R_e^2}{r^2} \right)$$

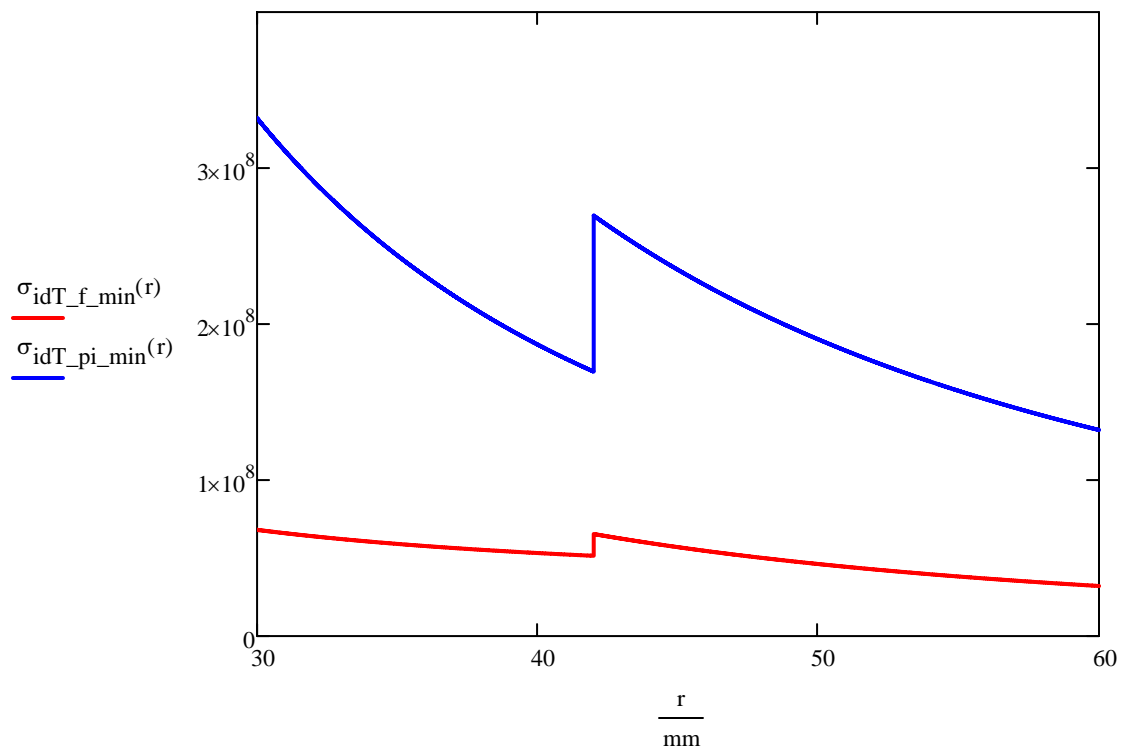
Tensioni totali

$$\sigma_{rrT_min}(r) := \sigma_{rrpi}(r) + \sigma_{rrf_min}(r)$$

$$\sigma_{\theta\theta T_min}(r) := \sigma_{\theta\theta pi}(r) + \sigma_{\theta\theta f_min}(r)$$

$$\sigma_{idT_pi_min}(r) := \max(|\sigma_{\theta\theta T_min}(r) - \sigma_{rrT_min}(r)|, |\sigma_{\theta\theta T_min}(r)|, |\sigma_{rrT_min}(r)|)$$

$$r := R_i, R_i + 0.001 \cdot \text{mm} .. R_e$$



$$\sigma_{idT_pi_min}(R_i) = 332 \cdot \text{MPa} < \sigma_{amm} = 400 \cdot \text{MPa}$$

Quesito 2

La pressione di contatto che si produce con l'interferenza massima è data da:

$$p_{cmax} := \frac{E \cdot (R_e^2 - R_c^2) \cdot (R_c^2 - R_i^2)}{2 \cdot R_c^3 \cdot (R_e^2 - R_i^2)} \cdot i_{max} = 33.306 \cdot \text{MPa}$$

L'andamento di tensione prodotto dal forzamento è dato da:

Tensioni dovute al forzamento

$$\sigma_{rrf_max}(r) := \begin{cases} \left[\frac{p_{cmax} \cdot R_c^2}{R_c^2 - R_i^2} \cdot \left(1 - \frac{R_i^2}{r^2} \right) \right] & \text{if } r < R_c \\ \left[\frac{p_{cmax} \cdot R_c^2}{R_e^2 - R_c^2} \cdot \left(1 - \frac{R_e^2}{r^2} \right) \right] & \text{otherwise} \end{cases}$$

$$\sigma_{\theta\theta f_max}(r) := \begin{cases} \left[\frac{p_{cmax} \cdot R_c^2}{R_c^2 - R_i^2} \cdot \left(1 + \frac{R_i^2}{r^2} \right) \right] & \text{if } r < R_c \\ \left[\frac{p_{cmax} \cdot R_c^2}{R_e^2 - R_c^2} \cdot \left(1 + \frac{R_e^2}{r^2} \right) \right] & \text{otherwise} \end{cases}$$

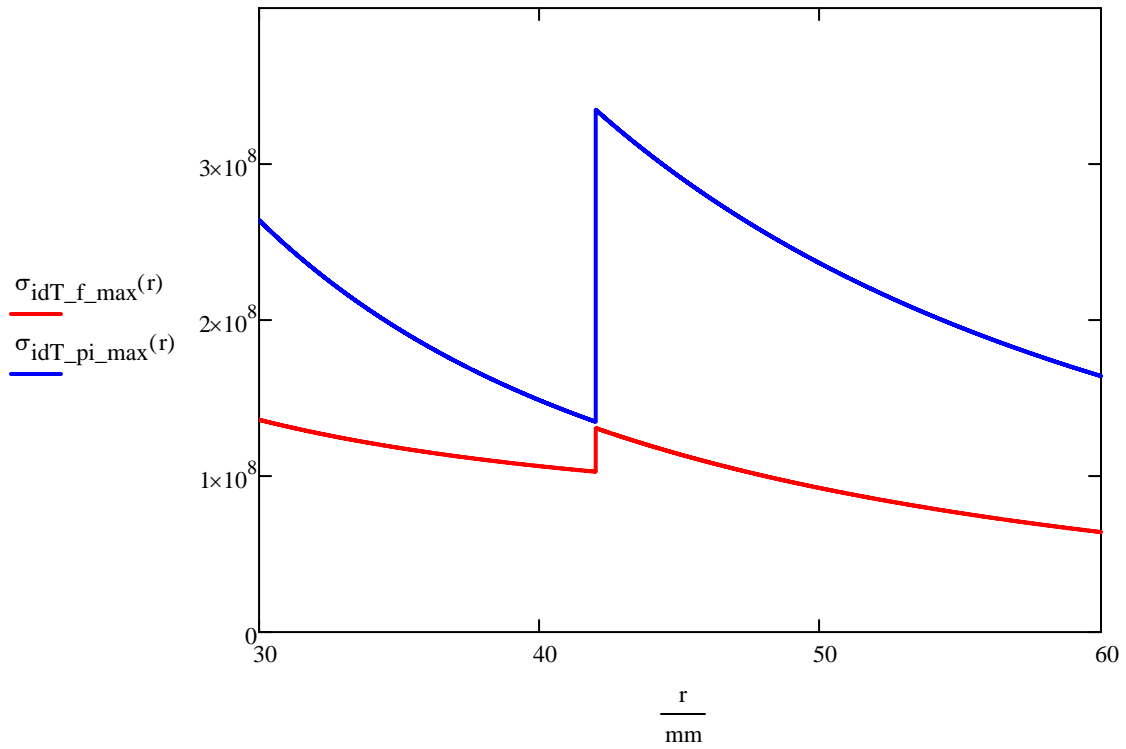
$$\sigma_{idT_f_max}(r) := \max\left(\left| \sigma_{\theta\theta f_max}(r) - \sigma_{rrf_max}(r) \right|, \left| \sigma_{\theta\theta f_max}(r) \right|, \left| \sigma_{rrf_max}(r) \right| \right)$$

Tensioni totali

$$\sigma_{rrT_max}(r) := \sigma_{rrpi}(r) + \sigma_{rrf_max}(r)$$

$$\sigma_{\theta\theta T_max}(r) := \sigma_{\theta\theta pi}(r) + \sigma_{\theta\theta f_max}(r)$$

$$\sigma_{idT_pi_max}(r) := \max(|\sigma_{\theta\theta T_max}(r) - \sigma_{rrT_max}(r)|, |\sigma_{\theta\theta T_max}(r)|, |\sigma_{rrT_max}(r)|)$$



$$\sigma_{idT_pi_max}(R_c) = 334.694 \cdot \text{MPa} < \sigma_{amm} = 400 \cdot \text{MPa}$$

Esercizio 2

Il recipiente in acciaio mostrato in Fig. 2.1 è appoggiato agli estremi a 2 selle, sollecitato da un carico uniformemente distribuito w_2 ed internamente pressurizzato con pressione p_2 . Il recipiente presenta una saldatura longitudinale controllata con sistema US avente la soglia di POD al 90% per una frattura semiellittica con $b=a=1$ mm.

Quale deve essere la tenacità minima del materiale, considerando che la frattura possa giacere in corrispondenza della saldatura sul piano "x-y" oppure sul piano "y-z"?

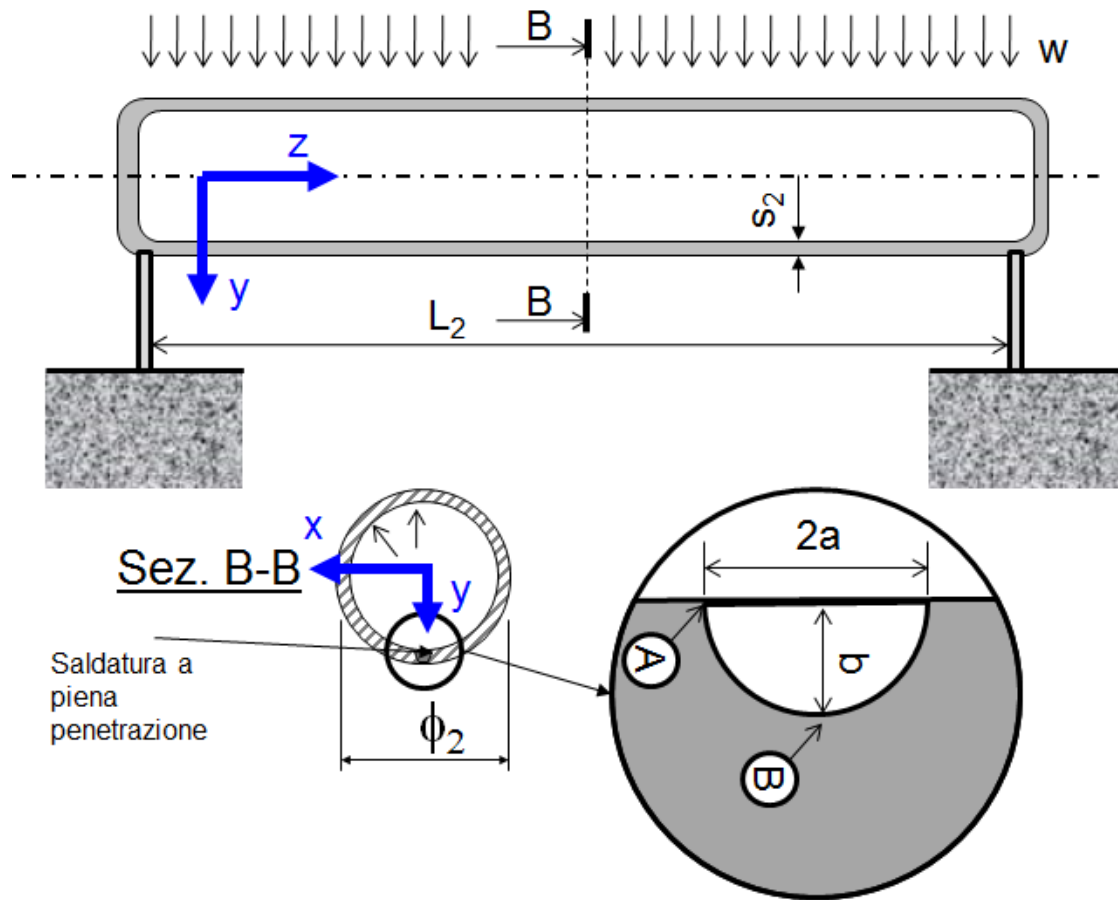


Fig. 2.1

$$s_2 := 5 \cdot \text{mm} \quad \Phi_2 := 1000 \cdot \text{mm} \quad L_2 := 5 \cdot \text{m} \quad a_2 := 1 \cdot \text{mm} \quad b_2 := 1 \cdot \text{mm}$$

$$w_2 := 100 \cdot \frac{\text{N}}{\text{mm}} \quad p_2 := 5 \cdot \text{MPa}$$

$$\beta_A := 1 \quad \beta_B := 1.12$$

Fattori correttivi per calcolo K_I

Momento flettente massimo (da modello trave appoggiata):

$$M_2 := \frac{w_2 \cdot L_2^2}{8} = 3.125 \times 10^5 \cdot \text{N} \cdot \text{m}$$

Momento di inerzia sezione

$$J_2 := \frac{\pi \cdot [(\Phi_2 + s_2)^4 - (\Phi_2 - s_2)^4]}{64} = 1.964 \times 10^9 \cdot \text{mm}^4$$

Tensioni nominali

$$\sigma_{zz} := \frac{M_2}{J_2} \cdot \frac{\Phi_2}{2} + \frac{p_2 \cdot \Phi_2}{4 \cdot s_2} = 329.575 \cdot \text{MPa}$$

$$\sigma_{\theta\theta} := \frac{p_2 \cdot \Phi_2}{2 \cdot s_2} = 500 \cdot \text{MPa}$$

Calcolo tenacità minima richiesta

La situazione più critica si verifica per una frattura giacente sul piano "y-z", dato che la tensione $\sigma_{\theta\theta}$ è maggiore della σ_{zz} .

Inoltre, è sufficiente considerare il punto B, in quanto $\beta_B > \beta_A$.


$$K_{IC_min} := \sigma_{\theta\theta} \cdot \beta_B \cdot \sqrt{\pi \cdot b_2} = 31.388 \cdot \text{MPa} \cdot \sqrt{\text{m}}$$

Esercizio 3

Una sfera cava in piombo, mostrata nella Figura 3.1, è immersa in acqua alla temperatura ambiente ed internamente pressurizzata alla pressione p_3 .

Il materiale della sfera subisce creep a temperatura ambiente (sono forniti i parametri della relativa legge di Norton).

Calcolare il tempo necessario perché la sfera riemerge, trascurando gli effetti della deformazione da creep sullo stato di tensione interno alla sfera stessa e le variazioni di volume dovute alla deformazione elastica.



$$R_3 := 1 \cdot \text{m} \quad \text{Raggio esterno della sfera}$$

$$s_3 := 35 \cdot \text{mm} \quad \text{Spessore della sfera}$$

$$p_3 := 0.5 \cdot \text{bar}$$

$$\rho_3 := 11340 \cdot \frac{\text{kg}}{\text{m}^3} \quad \text{Densità Pb}$$

$$B_3 := 8.02 \cdot 10^{-6} \cdot \frac{1}{\text{s}} \quad \frac{d}{dt} \epsilon := B \cdot \sigma^n$$

$$n_3 := 2.5$$

Parametri legge di Norton: (velocità di deformazione in s^{-1} , tensione in MPa)

$$\rho_{\text{H2O}} := 1000 \cdot \frac{\text{kg}}{\text{m}^3} \quad \text{Densità acqua}$$

$$\sigma := \frac{p_3 \cdot \left(R_3 - \frac{s_3}{2} \right)}{2 \cdot s_3} = 0.702 \cdot \text{MPa} \quad \text{Tensione nella sfera}$$

$$V_3 := \frac{4 \cdot \pi}{3} \cdot \left[(R_3)^3 - (R_3 - s_3)^3 \right] = 0.425 \cdot \text{m}^3 \quad \text{Volume iniziale materiale sfera}$$

$$W_s := V_3 \cdot \rho_3 = 4.815 \times 10^3 \text{ kg} \quad \text{Massa della sfera}$$

$$V_{\text{lim}} := \frac{W_s}{\rho_{\text{H2O}}} = 4.815 \cdot \text{m}^3 \quad \text{Volume richiesto per il galleggiamento}$$

$$R_{\text{lim}} := \sqrt[3]{\frac{3 \cdot V_{\text{lim}}}{4 \cdot \pi}} = 1.048 \text{ m} \quad \text{Raggio esterno richiesto per galleggiamento}$$

$$\epsilon_{\text{lim}} := \frac{R_{\text{lim}} - R_3}{R_3} = 0.048 \quad \text{Deformazione}$$

$$t_{\text{emer}} := \frac{\epsilon_{\text{lim}}}{B_3 \cdot \left(\frac{\sigma}{\text{MPa}} \right)^{n_3}} = 3.991 \cdot \text{hr} \quad \text{Tempo per l'emersione}$$